

**KENDRIYA VIDYALAYA SANGATHAN  
BHOPAL REGION  
COMPETENCY BASED TEST, SEP-2023  
CLASS -3 SUBJECT- ENGLISH**

**Reading**

**Read the lines of given below and answer the following questions.**

**Title: Golu's New Friend**

Golu lived in a small village. He had a cute little dog named Tommy. Every day, when Golu returned home from school, Tommy would eagerly wait for him. One day Golu saw a tiny kitten wandering on the road. He picked up the kitten and brought it to his house. At first, Tommy was a bit jealous, but he soon understood that the kitten was a new friend.

Over time, Tommy, and the kitten, whom Golu named Kitty, became great friends.

1. What was the name of Golu's dog?

- A) Tommy
- B) Kitty
- C) Golu
- D) Billi

**Ans A) Tommy**

**Feedback:-** Golu had a cute little dog named **Tommy**.

2. Where did Golu find the kitten?

- A) In a park
- B) On the road
- C) In his house
- D) At school

**Ans B) On the road**

**Feedback:-** Golu saw a tiny kitten wandering **on the road**.

3. How did Tommy feel when Golu brought the kitten home?

- A) Happy
- B) Angry
- C) Sad
- D) Jealous

**Ans D) Jealous**

**Feedback:-** At first, Tommy was a bit **jealous**.

4. What did Golu name the kitten?

- A) Tommy
- B) Golu
- C) Kitty
- D) Billi

**Ans C) Kitty**

**Feedback:-** Tommy, and the kitten, whom Golu named **Kitty**, became great friends.

### Spellings

5. Identify the word with the correct spelling:

He w...shed his hands before eating.

- a) washed
- b) woshhed
- c) waishd
- d) waased

**Ans a) washed**

**Feedback-washed:** to clean somebody/something/yourself with water and often soap.

6. Which of the following is spelled correctly?

- a) Hapiness
- b) Happyness
- c) Happiness
- d) Haapines

**Ans c) Happiness**

**Feedback: - happy + ness=happiness**

7. Unscramble the letters to form a word:

R I B D

- a) Bird
- b) Rbid
- c) Dibr
- d) lbrd

**Ans a) Bird**

**Feedback:- *Bird*** is the only meaningful word made by arranging R I B D

### Grammar

8. Tick the correct opposite word for **Curly**.

- a) straight
- b) short
- c) small
- d) bitter

**Ans a) straight**

**Feedback: straight** --with no bends or curves.

9. Fill in the blank with the appropriate word:

"The Earth revolves around ..... Sun."

- a) with
- b) and
- c) the
- d) a

**Ans a) the**

**Feedback: *The*** is used when there is only one of something like Sun/Moon.

10.what is the word that rhymes with “root”

- a) Near
- b) Shoot
- c) New
- d) Ride

**Ans b) shoot**

**Feedback:-root and shoot are rhyming words.**

कक्षा- 3 विषय – हिन्दी

पूर्णांक :10

पठन

1) दिए गए गद्यांश को पढ़कर पूछे गए प्रश्नों के उत्तर दीजिए।

एक बार एक टोपी विक्रेता था। वह गाँव-गाँव अपनी टोपियाँ बेचने जाता था। एक बार जब वह एक गाँव पहुँचा तो बहुत थक गया। उसने अपनी टोकरी नीचे रखी और पेड़ के नीचे सो गया। वृक्ष पर कुछ बंदर थे। बंदर नीचे आये और उसकी टोपियाँ चुरा ले गये। थोड़ी देर के पश्चात् टोपी विक्रेता जाग गया। उसे अपनी टोपियाँ नहीं मिलीं। उसने ऊपर देखा। उसने बंदरों को अपनी टोपियों के साथ देखा। उसने एक योजना सोची। उसने अपनी टोपी पहनी। बंदरों ने भी ऐसा ही किया। उसने अपनी टोपी जमीन पर फेंकी। बंदरों ने भी ऐसा ही किया उसने टोपियाँ एकत्र की। वह चला गया। वह बहुत प्रसन्न था।

क) टोपी विक्रेता अपनी टोपियाँ कहाँ बेचने जाता था।

अ) गाँव में

ब) शहर में

स) जंगल में

**उत्तर : अ ) गाँव में**

**फीडबैक :** वह गाँव-गाँव अपनी टोपियाँ बेचने जाता था।

ख) टोपी विक्रेता ने टोपी ज़मीन पर क्यों फेंकी?

अ) टोपी उसे अच्छी नहीं लगी।

ब) ताकि बंदर भी ऐसा ही करें।

स) ताकि ग्राहक टोपी खरीदने आए।

**उत्तर : ब ) ताकि बंदर भी ऐसा ही करें।**

**फीडबैक :** बन्दर इंसानों की नक़ल करते हैं इसलिए टोपी विक्रेता ने योजना बना कर टोपी को जमीन पर फेंक दिया ।

ग) बंदरों ने टोपियाँ कब चुराई?

अ) जब टोपी विक्रेता भोजन कर रहा था।

ब) जब टोपी विक्रेता टोपियाँ बेच रहा था।

स) जब टोपी विक्रेता सो रहा था।

**उत्तर : स ) जब टोपी विक्रेता सो रहा था।**

**फीडबैक :** टोपी विक्रेता के सो जाने पर बंदरों ने टोपियाँ चुरा ली ।

घ ) रिक्त स्थान के लिए उचित शब्द चुनो -  
वृक्ष पर कुछ ..... थे ।

अ) खरगोश

आ) बन्दर

इ) हिरण

**उत्तर : आ ) बन्दर**

**फीडबैक :** वृक्ष पर कुछ बन्दर थे ।

### व्याकरण

2) दिए गए वाक्य में से सर्वनाम शब्द चुनिए-

श्याम मेरा अच्छा दोस्त है।

अ) अच्छा

ब) मेरा

स) दोस्त

**उत्तर : ब) मेरा**

**फीडबैक :** संज्ञा के स्थान पर काम आने वाले शब्दों को सर्वनाम कहते हैं जैसे मैं, वह, तुम, मेरा आदि ।

3) दिए गए वाक्य में से नाम वाले शब्द को चुनिए-

बनारस गंगा के किनारे बसा है।

अ) बसा

ब) गंगा

स) किनारे

**उत्तर : ब) गंगा**

**फीडबैक:** नाम वाले शब्दों को संज्ञा कहते हैं जैसे राम ,गंगा ,इंदौर

4) दिए गए वाक्य में से काम वाले शब्द को चुनिए-

रमेश सुबह से खेल रहा है ।

अ) रमेश

ब) सुबह

स) खेल

**उत्तर : स) खेल**

**फीडबैक:** जिन शब्दों से किसी काम का करना या होना पाया जाता है उसे क्रिया शब्द कहते हैं ।

### वर्तनी

5) रिक्त स्थान में सही स्त्रीलिंग शब्द भरिए -

एक जंगल में हाथी सो रहा था और \_\_\_\_\_ अपने बच्चों की देखभाल कर रही थी।

अ) हथिनी

ब) हाथनी

स) हाथिनी

**उत्तर : अ) हथिनी**

**फीडबैक :** हाथी शब्द का स्त्रीलिंग रूप हथिनी होता है ।

6) निम्न शब्दों में से शुद्ध शब्द चुनिए।

अ) चीड़िया

ब) चिड़िया

स) चिड़ियां

**उत्तर : ब) चिड़िया**

**फीडबैक :** सही शब्द है - चिड़िया

7) निम्न में से कौन सा शब्द सही है?

अ) राक्षसी

ब) राक्षशी


स) राकससी

**उत्तर : अ) राक्षसी**

**फीडबैक :** सही शब्द है - राक्षसी

**KNOWLEDGE**

1. How many corners does a dice have?

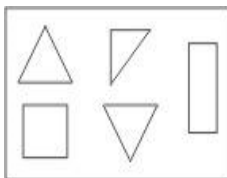


- a) 8                      b) 12                      c) 6

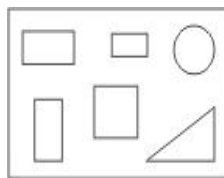
**Ans. a) 8**

**Feedback: A cube as well as dice has 8 corners .**

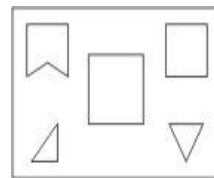
2. Which box contains three TRIANGLES?



a)

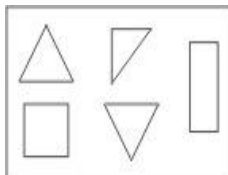


b)

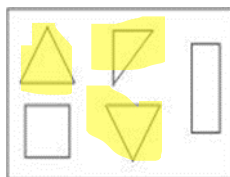


c)

**Ans. a)**



**Feedback :**




**UNDERSTANDING**

3. Which of the following is in the shape of a RECTANGLE?

- a) a samosa                      b) a postcard                      c) a cricket ball

**Ans. b) a postcard**

**Feedback: opposite sides are parallel and equal in a postcard as in rectangle.**



4. Fill in the blank

225 , 250 , 275 , \_\_\_\_\_ , 325 , 350.

- a)200                      b)100                      c)300

**Ans. c)300**

**Feedback :**  $225+25=250$

$$250+25=275$$

$$275+25=300 \quad \checkmark$$

### ABILITY TO COMPUTE

5. Which number will come in the blank?

$$28 + \underline{\hspace{2cm}} = 76$$

- a) 48                      b) 54                      c)34

**Ans. a) 48**

**Feedback:**  $76-28= 48$

6. Solve:

$$70 - 34 = \underline{\hspace{2cm}}$$

- a) 42                      b) 54                      c) 36

**Ans. c) 36**

**Feedback:** 70

$$- \underline{34}$$

$$36$$

### PROBLEM SOLVING

Rate list of a shop given as follows

ITEM	PRICE
SHIRT	150
TROUSER	200
COAT	440
SOCKS (a pair)	50

7. What is the price of 2 shirts?

- a)400                      b)300                      c)150

**Ans. b) 300**

**Feedback:** Price of 1 shirt = Rs.150

$$\text{Price of 2 Shirts} = \text{Rs. } 150 \times 2$$

$$= \text{Rs.300}$$

8. Ram has 100 Rs. He bought a pair of socks. How much is left in his pocket?

- a)Rs.100                      b)Rs.50                      c) Rs.100

**Ans. b) Rs. 50**

**Feedback:** Total Amount : Rs. 100

Cost of a pair of socks : Rs.50

Remaining Amount: Rs. 100- Rs.50 =Rs.50

9. Kiran bought a shirt and trouser. How much did she spent in all?

- a)Rs.350                      b) Rs.200                      c)Rs.150

**Ans. a) Rs.350**

**Feedback :** cost of 1 shirt = Rs. 150

Cost of 1 trouser = Rs. 200

**Total Amount Spent : Rs.150 + Rs.200 = Rs.350**

10. What is the cost of a trouser and a coat together?

- a) Rs.440                      b) Rs.200                      c) Rs.640

**Ans. c) Rs.640**

**Feedback :** Cost of 1 trouser = Rs.200

Cost of 1 Coat = Rs. 440

**Total Amount Spent : Rs.150 + Rs.200 = Rs.640**

## CLASS - III SUBJECT – EVS OBSERVATION AND REPORTING

**Identify the pictures.**

1. This is the beak of \_\_\_\_\_



- a) eagle                      b) parrot                      c) duck


**Answer - a) eagle**

**Feedback :** Eagle has a curvy beak to hold prey.



2. Black are my feathers and black is my beak. Kau-kau I do all day long.

I am \_\_\_\_\_



a) eagle

b) crow

c) vulture

**Answer - b) crow**

**Feedback :** Crows' beak and feathers are black.

3. Name the picture.



a) fork

b) spoon

c) knife

**Answer - a) fork**

**Feedback: Fork** -a small metal object with a handle and two or more points (prongs) that you use for lifting food to your mouth when eating.

## CLASSIFICATION AND IDENTIFICATION

4. I eat dead animals and make the places clean. I am a \_\_\_\_\_

a) pigeon

b) owl

c) vulture

**Answer - c) vulture**

**Feedback:** Vulture eat dead animals.

5. How many colors a rainbow has?

a) five

b) six

c) seven

**Answer - c) seven**

**Feedback:** A rainbow has 7 colours-

Voilet, Indigo, Blue, Green, Yellow, Orange, Red.

6. Which food items can be prepared by boiling?

- a) dosa                                      b) rice                                      c) cake

**Answer - b) rice**

**Feedback: Dosa- made from fermented batter**

**Rice -made from boiling rice**

**Cake – baking**

### **DISCOVERY OF FACTS**

7. The process by which a liquid turn into gas is called?

- a) evaporation              b) condensation              c) collection

**Answer - a) evaporation**

**Feedback :** Evaporation is the process by which a liquid turns into a gas. It involves a change in the state of matter.

8. What is the main source of water?

- a) river                                      b) lake                                      c) rain

**Answer - c) rain**

**Feedback :** lakes and rivers also get water from rain.

9. Which part of the bird helps it to eat food?

- a) feather                                      b) beak                                      c) tail

**Answer - b) beak**

**Feedback :** Birds use their beaks to eat food.

10. Which is our national bird?

- a) pigeon                                      b) parrot                                      c) peacock

**Answer - c) peacock**

**Feedback :** peacock is our national bird.